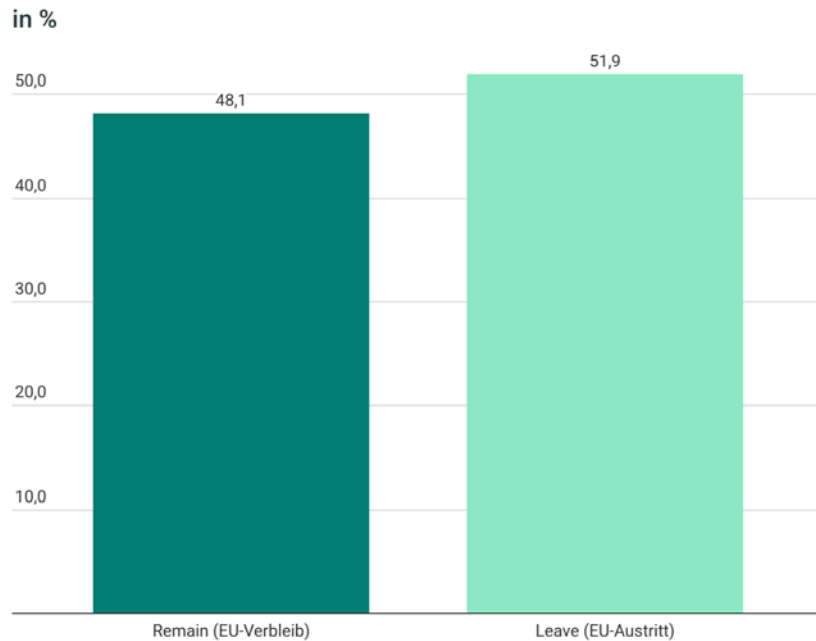


## M 02.03 Brexit-Ergebnisse

Diagramm A:

### Ergebnis des Brexit-Referendums



Wählerschaft insgesamt: 46.500.001; Wahlbeteiligung: 72.2%; ungültige Stimmen: 25.359

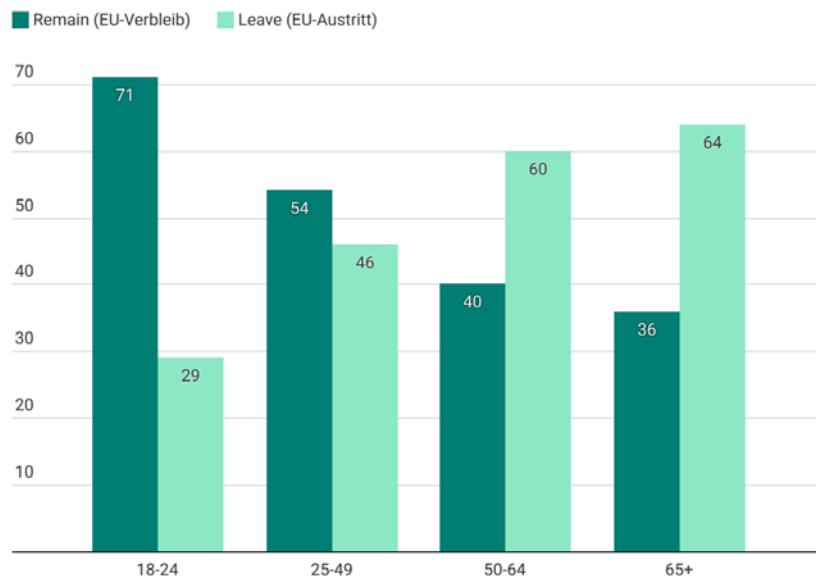
Quelle: The Electoral Commission (UK)



Diagramm B:

### Ergebnis des Brexit-Referendums nach Alter

in % (Stichprobengröße: 5455 UK-Erwachsene; Feldstudie: 23. - 24. Juni 2016)



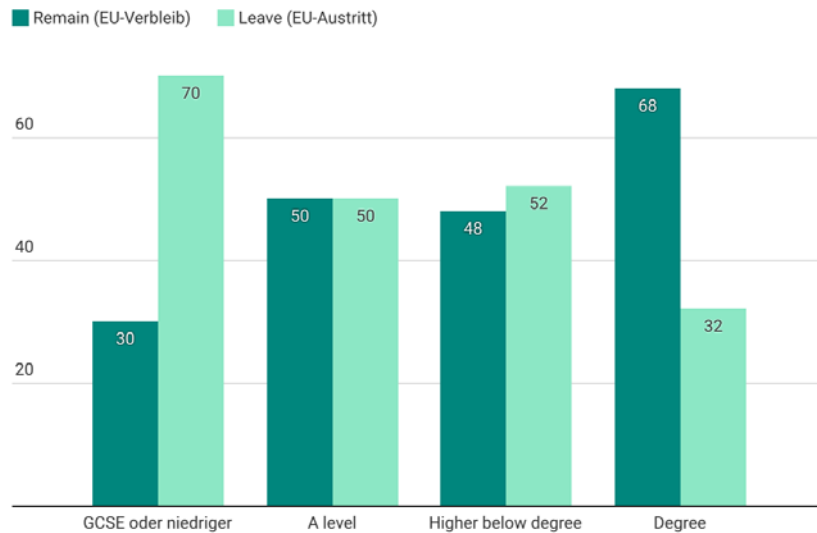
Quelle: YouGov | yougov.com



## Diagramm C:

### ■ Ergebnis des Brexit-Referendums nach Bildungsabschluss

in % (Stichprobengröße: 5455 UK-Erwachsene; Feldstudie: 23. - 24. Juni 2016)



• Quelle: YouGov | yougov.com



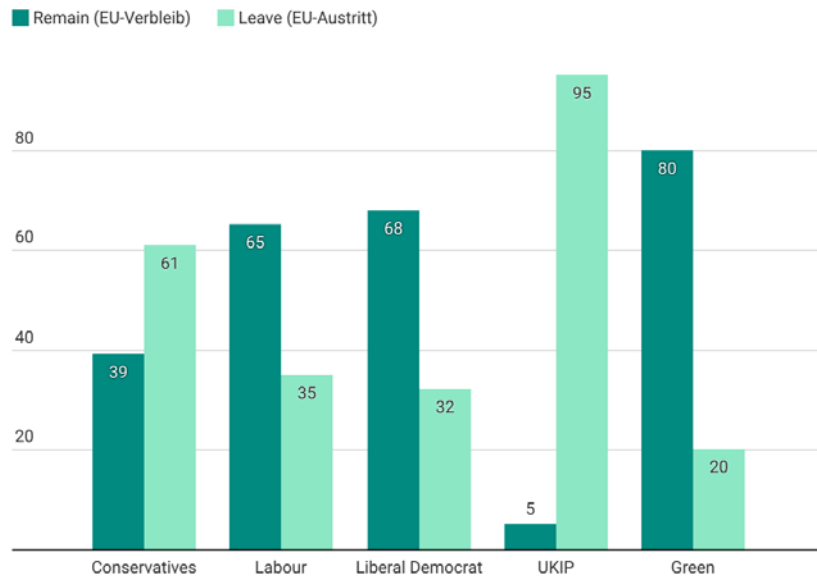
#### Erklärung zu den Abschlüssen:

- *GCSE* (General Certificate of Secondary Education) entspricht dem deutschen Realschulabschluss
- *A level* (*Advanced level*) entspricht dem deutschen Abitur
- *Higher below degree* entspricht einem höheren Abschluss unter Hochschulabschluss
- *Degree* = Akademischer Hochschulabschluss / akademischer Grad

## Diagramm D:

### ■ Brexit-Referendum nach Parteipräferenz

in % (Stichprobengröße: 5455 UK-Erwachsene; Feldstudie: 23. - 24. Juni 2016)



• Quelle: YouGov | yougov.com



**Erklärung:** Die Befragten wurden nach ihrer politischen Ausrichtung in Gruppen eingeteilt. Basis war dabei die Parteipräferenz von 2015, also die Partei, die sie bei der Wahl 2015 gewählt haben:

- *Conservatives:* „Konservative“, Anhänger der Conservative Party
- *Labour:* Anhänger der Labour Party „Arbeitspartei“ oder „Partei der Arbeit“
- *Liberal Democrats:* Anhänger der „Liberalen Demokraten“
- UKIP (UK Independence Party) „Partei für die Unabhängigkeit des Vereinigten Königreichs“
- Green: „Grüne“
- 

### Aufgaben:

1. Analysiere die Diagramme A-D: Worum geht es thematisch bei den Diagrammen? Worin unterscheiden sie sich?
2. Welche Aussagen kannst du den einzelnen Diagrammen entnehmen. Halte für jedes der Diagramme eine Hauptaussage fest.
3. Diskutiert die Ergebnisse in der Klasse